

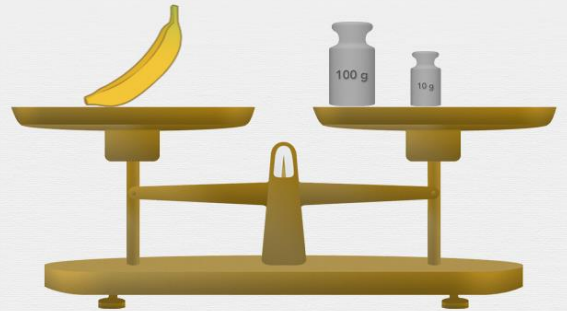


Peser un objet

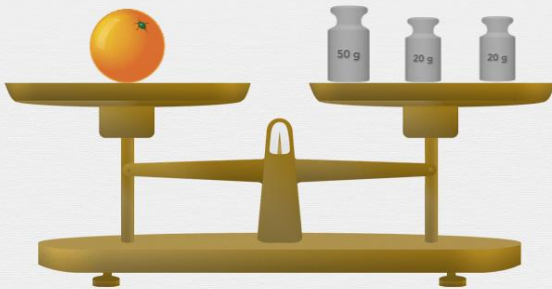
Combien pèse chaque fruit ? Complète les phrases.



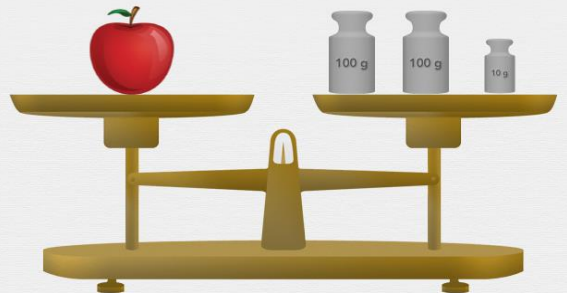
Le kiwi pèse grammes.



La banane pèse grammes.



L'orange pèse grammes.



La pomme pèse grammes.



Le raisin pèse grammes.



L'ananas pèse grammes.