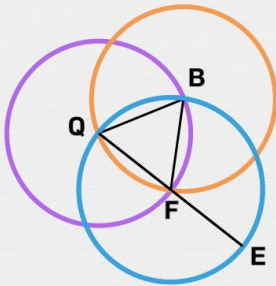




Le cercle

Vrai ou faux ? Entoure la bonne réponse.

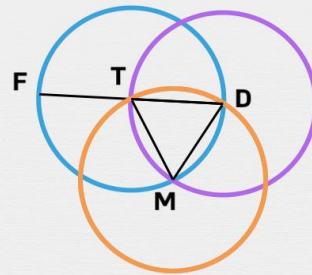
Le centre du cercle de diamètre $[EQ]$ est le point F .



vrai

faux

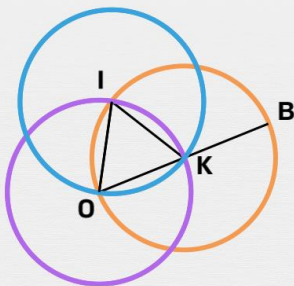
La corde $[DT]$ fait partie du cercle de centre M .



vrai

faux

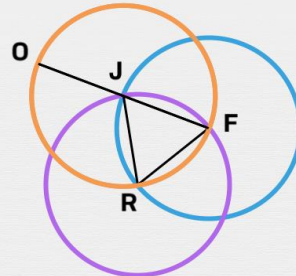
Le centre du cercle de rayon $[IO]$ est le point I .



vrai

faux

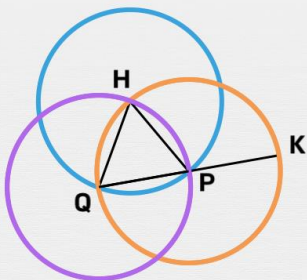
Le centre du cercle de diamètre $[OF]$ est le point R .



vrai

faux

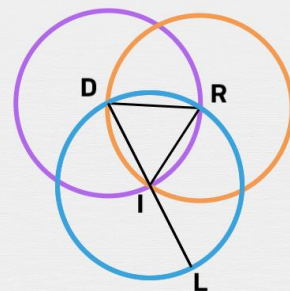
Le rayon $[QP]$ fait partie du cercle de centre Q .



vrai

faux

Le centre du cercle de diamètre $[LD]$ est le point D .



vrai

faux