

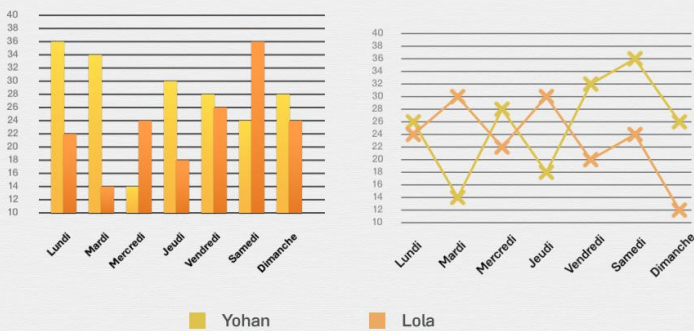


Interpréter des graphiques

Quel diagramme correspond à l'énoncé ? Entoure la bonne réponse.

Mercredi, Yohan a pris moins de photos que Lola.
Quel diagramme correspond à cette donnée ?

Nombre de photos prises par Yohan et Lola en fonction des jours de la semaine



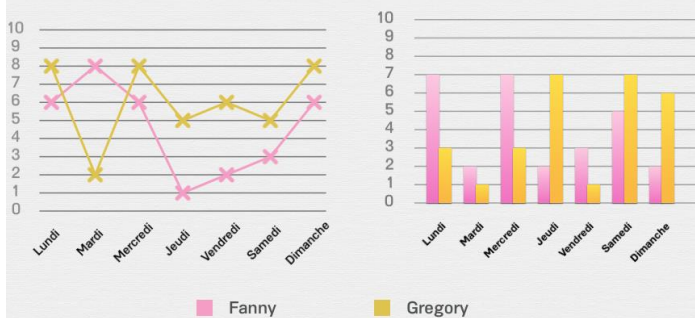
Vendredi, Yohan a pris plus de photos que Lola.
Quel diagramme correspond à cette donnée ?

Nombre de photos prises par Yohan et Lola en fonction des jours de la semaine



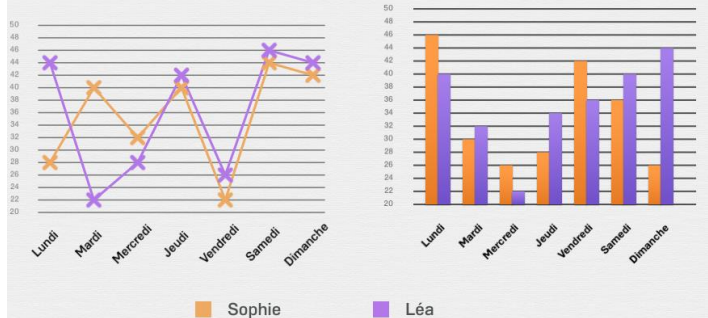
Vendredi, Fanny a acheté moins de bonbons que Gregory.
Quel diagramme correspond à cette donnée ?

Nombre de bonbons achetés par Fanny et Gregory en fonction des jours de la semaine



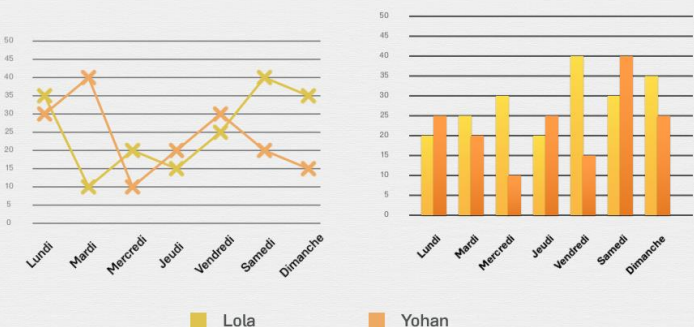
Mardi, Sophie a vendu plus de sandwiches que Léa.
Quel diagramme correspond à cette donnée ?

Nombre de sandwiches vendus par Léa et Sophie en fonction des jours de la semaine



Lundi, Lola a pris plus de photos que Yohan.
Quel diagramme correspond à cette donnée ?

Nombre de photos prises par Yohan et Lola en fonction des jours de la semaine



Dimanche, Nathalie a reçu moins d'appels que Christophe.
Quel diagramme correspond à cette donnée ?

Nombre d'appels reçus par Nathalie et Christophe en fonction des jours de la semaine

