



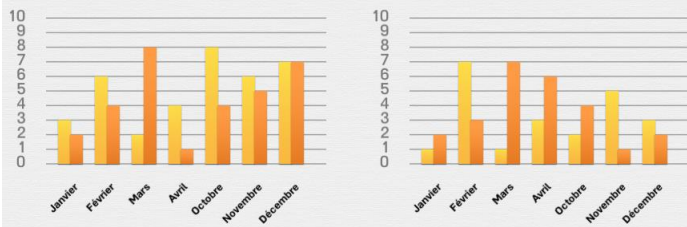
Interpréter des graphiques

Quel diagramme correspond au tableau ? Entoure la bonne réponse.

Nombre de balades à vélo faites par Paul et Tiphaine en fonction des mois de l'année

	Tiphaine	Paul
Janvier	1	2
Février	7	3
Mars	1	7
Avril	3	6
Octobre	2	4
Novembre	5	1
Décembre	3	2

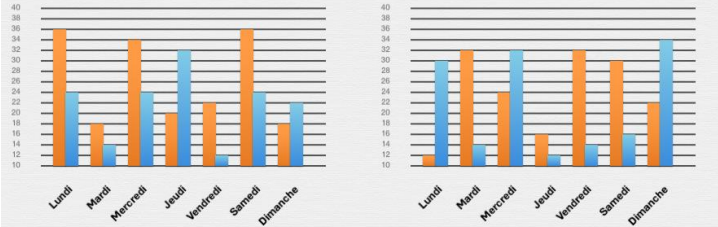
■ Tiphaine
■ Paul



Nombre de photos prises par Yohan et Lola en fonction des jours de la semaine

	Lola	Yohan
Lundi	12	30
Mardi	32	14
Mercredi	24	32
Jeudi	16	12
Vendredi	32	14
Samedi	30	16
Dimanche	22	34

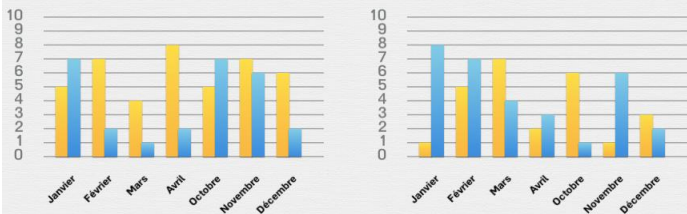
■ Lola
■ Yohan



Nombre de balades à vélo faites par Paul et Tiphaine en fonction des mois de l'année

	Paul	Tiphaine
Janvier	5	7
Février	7	2
Mars	4	1
Avril	8	2
Octobre	5	7
Novembre	7	6
Décembre	6	2

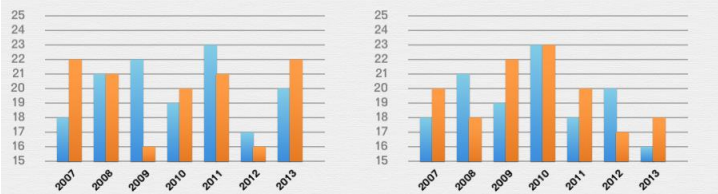
■ Paul
■ Tiphaine



Nombre de ventes, en milliers, de jouets et jeux vidéo dans un magasin selon les années

	Jeux vidéo	Jouets
2007	18	20
2008	21	18
2009	19	22
2010	23	23
2011	18	20
2012	20	17
2013	16	18

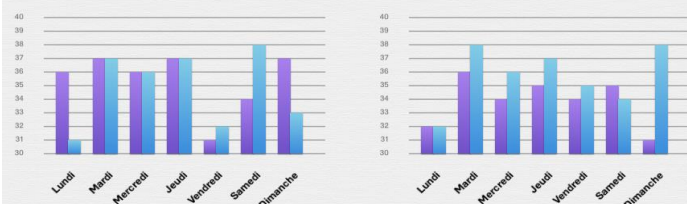
■ Jeux vidéo
■ Jouets



Nombre de sandwiches vendus par Léa et Sophie en fonction des jours de la semaine.

	Léa	Sophie
Lundi	36	31
Mardi	37	37
Mercredi	36	36
Jeudi	37	37
Vendredi	31	32
Samedi	34	38
Dimanche	37	33

■ Léa
■ Sophie



Nombre de photos prises par Yohan et Lola en fonction des jours de la semaine

	Lola	Yohan
Lundi	30	36
Mardi	36	28
Mercredi	26	26
Jeudi	14	18
Vendredi	30	16
Samedi	28	24
Dimanche	34	22

■ Lola
■ Yohan

