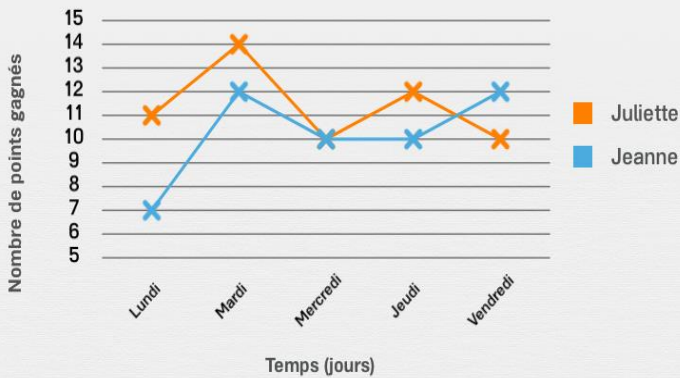




Diagrammes linéaires

Lis le diagramme et réponds à la question.

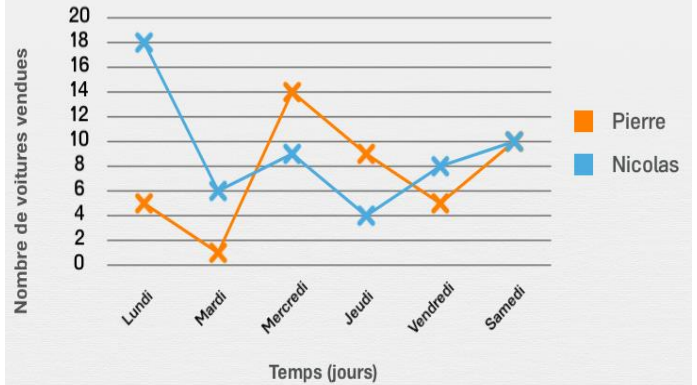
Nombre de points gagnés en fonction des jours de la semaine



Quel est le jour où Juliette et Jeanne ont gagné le même nombre de points ?

Réponse :

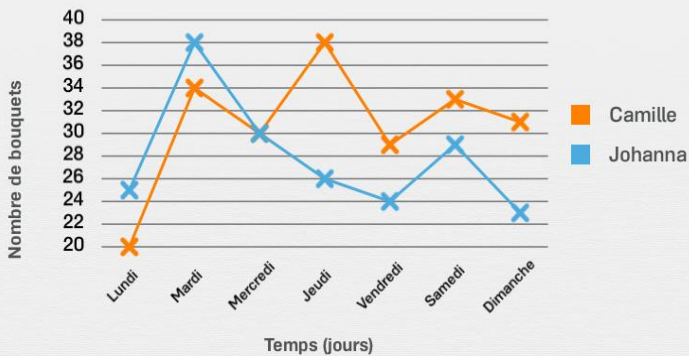
Nombre de voitures vendues en fonction des jours de la semaine



Quel est le jour où Pierre et Nicolas ont vendu le même nombre de voitures ?

Réponse :

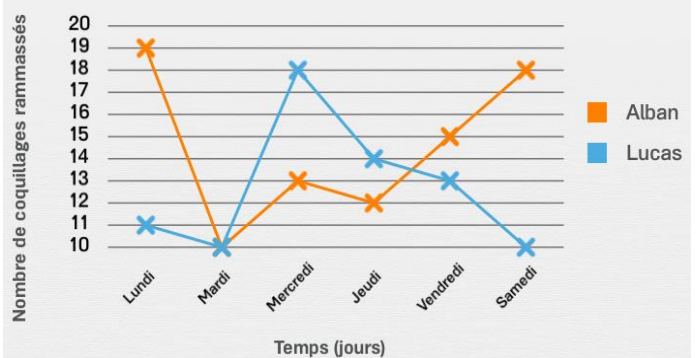
Nombre de bouquets vendus au cours de la semaine



Quel est le jour où Camille et Johanna ont vendu autant de bouquets de fleurs ?

Réponse :

Nombre de coquillages ramassés au cours de la semaine



Quel est le jour où Alban et Lucas ont ramassé autant de coquillages ?

Réponse :