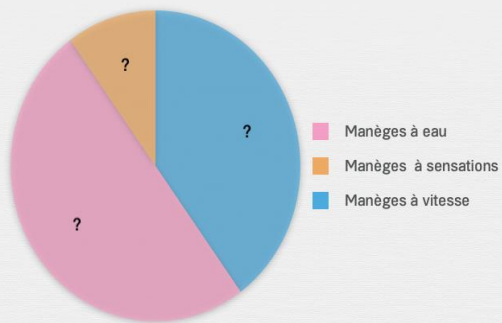




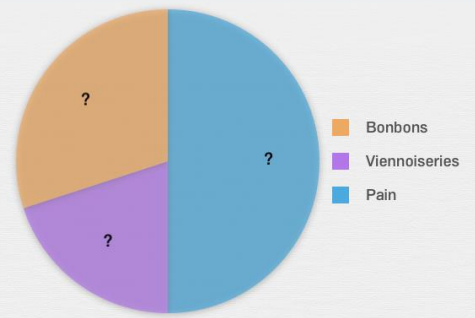
# Construire un graphique

Place les pourcentages sur les diagrammes en suivant les données de l'énoncé.

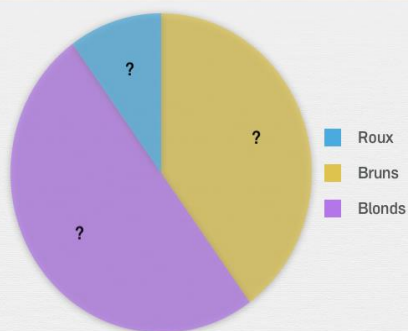
Au parc d'attractions, 40% des gens préfèrent les manèges à vitesse, 50% préfèrent les manèges à eau et 10% préfèrent les manèges à sensations.



À la fin de la journée à la boulangerie, il reste 50% de pain, 20% de viennoiseries et 30% de bonbons. Construis le diagramme circulaire.



Dans la classe de CP, 40% des élèves sont bruns, 50% sont blonds et 10% sont roux. Construis le diagramme circulaire.



Christophe est éleveur de chiens guide. 30% de ses chiens sont des Labradors, 20% sont des Golden Retrievers et 50% sont des Bergers australiens.

