

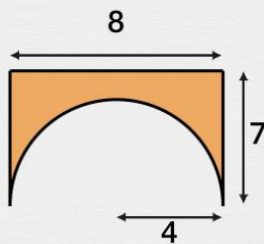


Calcul d'aires

Quelle est l'aire de la partie orange ?

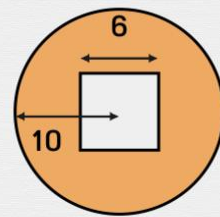
Écris ta réponse ici

cm²



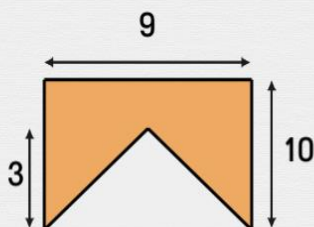
Écris ta réponse ici

cm²



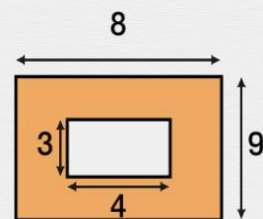
Écris ta réponse ici

cm²



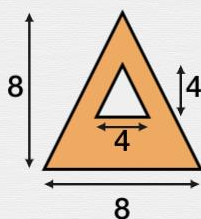
Écris ta réponse ici

cm²



Écris ta réponse ici

cm²



Écris ta réponse ici

cm²

