

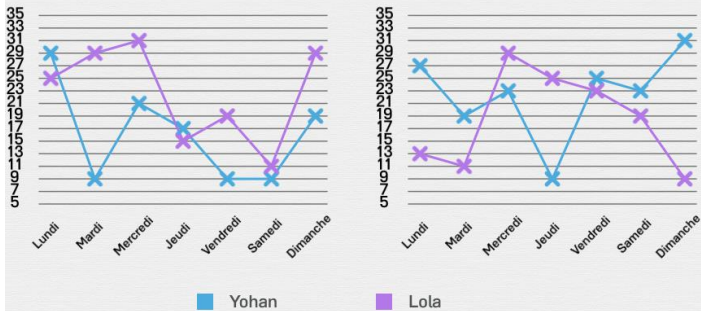


Interpréter des graphiques

Quel diagramme correspond à l'énoncé ? Entoure la bonne réponse.

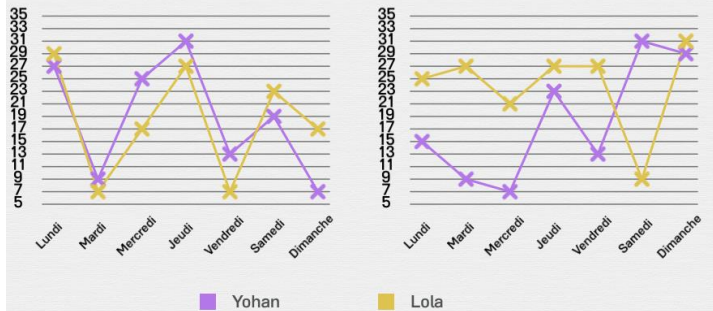
Samedi, Yohan a pris moins de photos que Lola.
Quel diagramme correspond à cette donnée ?

Nombre de photos prises par Yohan et Lola en fonction des jours de la semaine



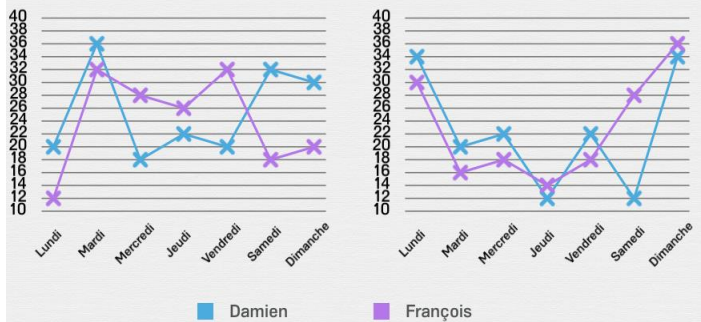
Vendredi, Yohan a pris moins de photos que Lola.
Quel diagramme correspond à cette donnée ?

Nombre de photos prises par Yohan et Lola en fonction des jours de la semaine



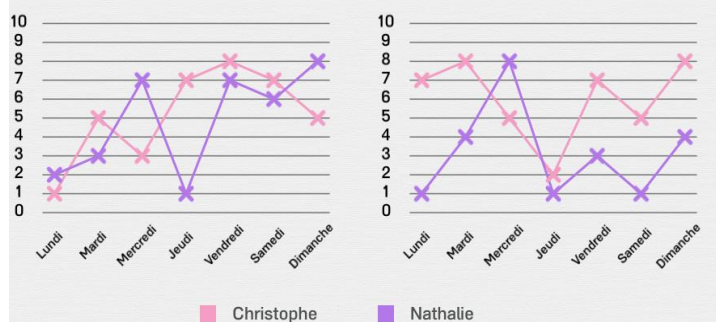
Dimanche, Damien a coupé moins d'arbres que François.
Quel diagramme correspond à cette donnée ?

Nombre d'arbres coupés par François et Damien en fonction des jours de la semaine



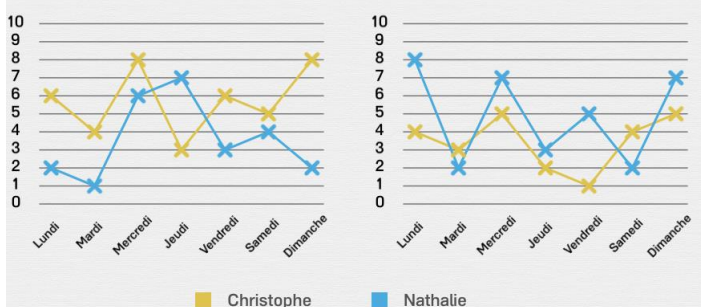
Lundi, Christophe a reçu plus d'appels que Nathalie.
Quel diagramme correspond à cette donnée ?

Nombre d'appels reçus par Nathalie et Christophe en fonction des jours de la semaine



Lundi, Christophe a reçu moins d'appels que Nathalie.
Quel diagramme correspond à cette donnée ?

Nombre d'appels reçus par Nathalie et Christophe en fonction des jours de la semaine



Dimanche, Lola a pris plus de photos que Yohan.
Quel diagramme correspond à cette donnée ?

Nombre de photos prises par Yohan et Lola en fonction des jours de la semaine

