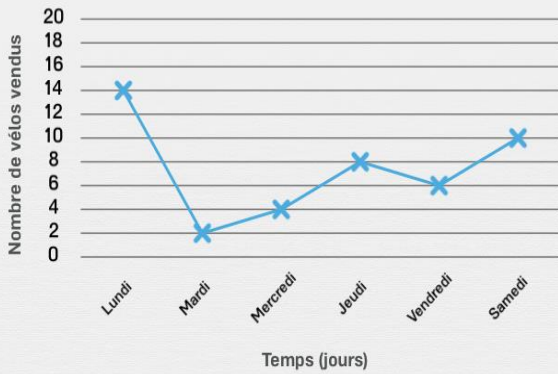




# Diagrammes linéaires

Lis le diagramme et réponds à la question.

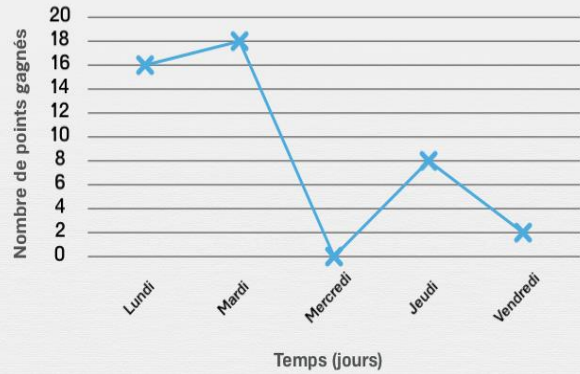
Nombre de vélos que Jacques a vendus en fonction des jours de la semaine



Quel est le jour où Jacques a vendu le moins de vélos ?

Réponse :

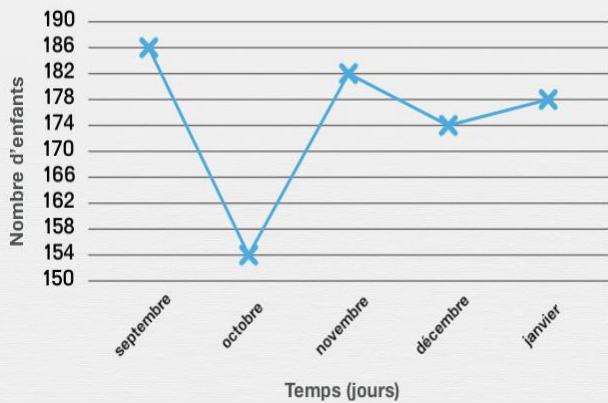
Nombre de points que Nina a gagnés en fonction des jours de la semaine



Quel est le jour ou Nina a gagné le moins de points ?

Réponse :

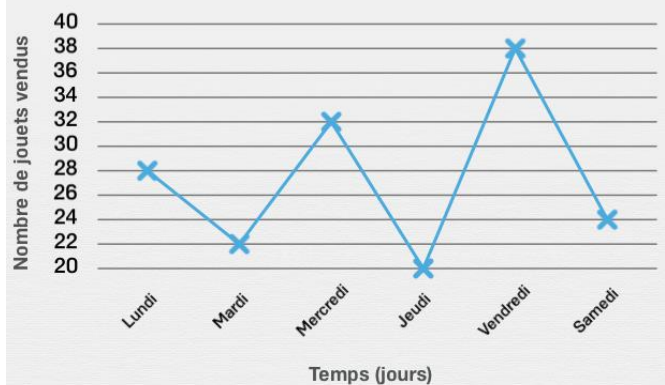
Nombre d'enfants inscrits à la garderie en fonction des mois de l'année



Quel est le mois où il y avait le moins d'enfants d'inscrits à la garderie ?

Réponse :

Nombre de jouets vendus en une semaine chez myBleerus



Quel est le jour où le magasin myBleerus a vendu le moins de jouets ?

Réponse :