



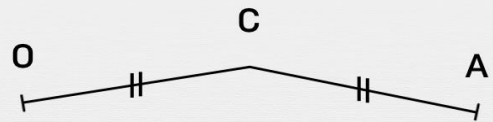
# Alignement et milieu

Le point est-il le milieu du segment donné ?



K est le milieu de [TR]

K n'est pas le milieu de [TR]



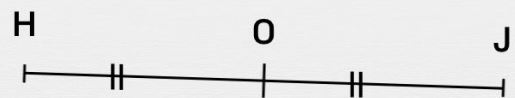
C est le milieu de [OA]

C n'est pas le milieu de [OA]



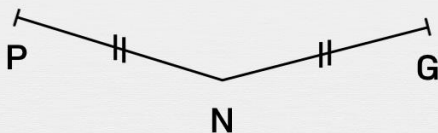
Q est le milieu de [PH]

Q n'est pas le milieu de [PH]



O est le milieu de [HJ]

O n'est pas le milieu de [HJ]



N est le milieu de [PG]

N n'est pas le milieu de [PG]



T est le milieu de [RC]

T n'est pas le milieu de [RC]