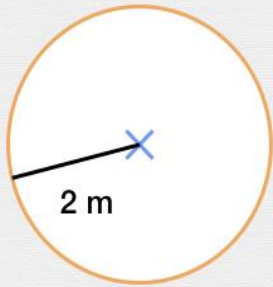




Périmètre des figures

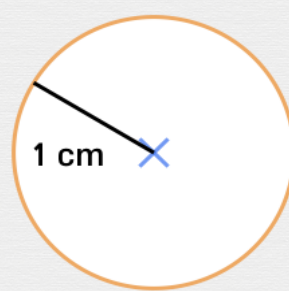
Résous ces problèmes.



Marie a une fontaine ronde dans son jardin. Elle a un rayon de 2 m. Combien mesure le tour de la fontaine ?

Réponse :

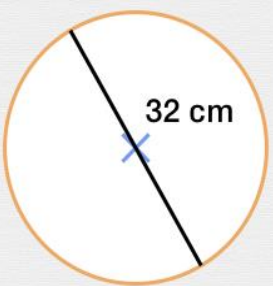
m



La montre de Chloé a un rayon de 1 cm. Quelle est la longueur du tour de sa montre ?

Réponse :

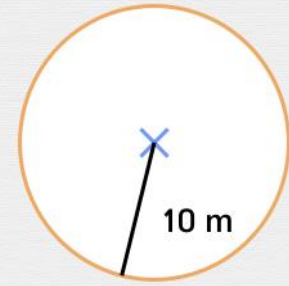
cm



A la piscine, Noémie met une bouée pour aller dans l'eau parce qu'elle ne sait pas encore nager. La bouée a un diamètre de 32 cm. Combien mesure le tour de la bouée ?

Réponse :

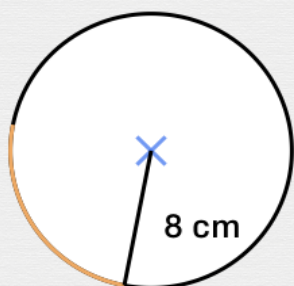
cm



Un chien est attaché à une laisse de 10 m de longueur. Il la tend au maximum et fait un cercle en marchant. Quelle est la distance parcourue par ce chien ?

Réponse :

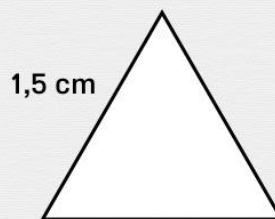
m



La maman de Théo a fait une bonne pizza ronde de 8 cm de rayon. Théo en mange le quart. Quel est le périmètre de la part de Théo ?

Réponse :

cm



Un gâteau apéritif a la forme d'un triangle équilatéral. Un de ses côtés mesure 1,5 cm. Quelle est la longueur du tour de ce gâteau ?

Réponse :

cm