




Volume du cube et du pavé

Calcule le volume de chaque pavé.

$h = 3 \text{ cm}$




$L = 7 \text{ cm}$

$l = 2 \text{ cm}$

$V = \square \times \square \times \square$

$V = \square \text{ cm}^3$

$h = 1 \text{ cm}$




$L = 6 \text{ cm}$

$l = 2 \text{ cm}$

$V = \square \times \square \times \square$

$V = \square \text{ cm}^3$

$h = 6 \text{ cm}$




$L = 10 \text{ cm}$

$l = 7 \text{ cm}$

$V = \square \times \square \times \square$

$V = \square \text{ cm}^3$

$h = 2 \text{ cm}$



$L = 8 \text{ cm}$

$l = 2 \text{ cm}$

$V = \square \times \square \times \square$

$V = \square \text{ cm}^3$