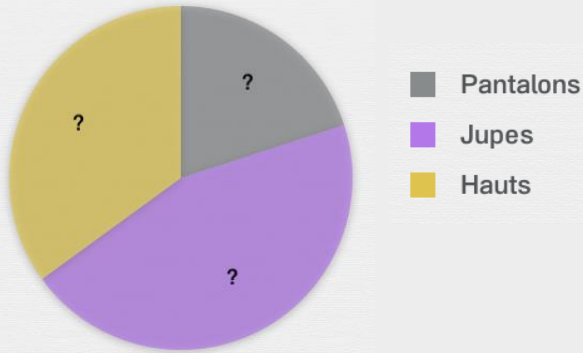


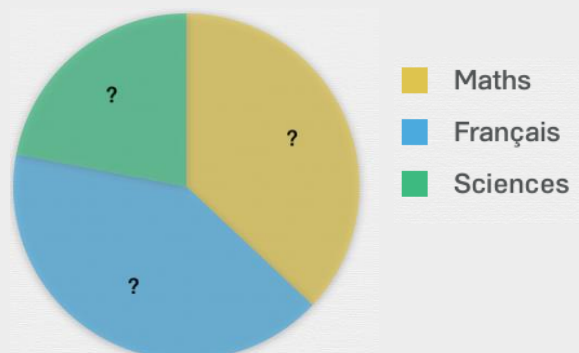


# Diagrammes circulaires

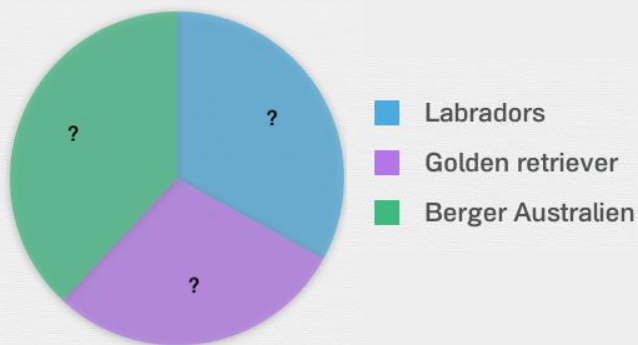
Lis la phrase et complète le diagramme avec les bons pourcentages.



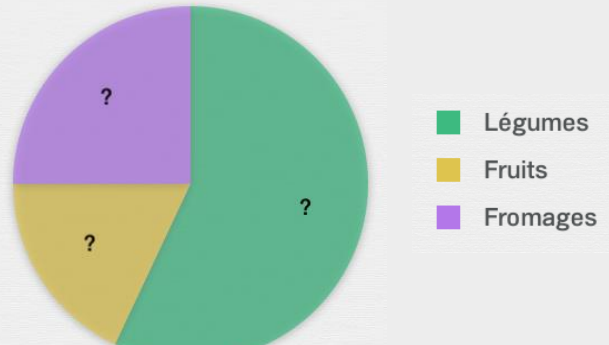
Dans l'armoire de Juliette, il y a 20% de pantalons, 45% de jupes et 35% de hauts.



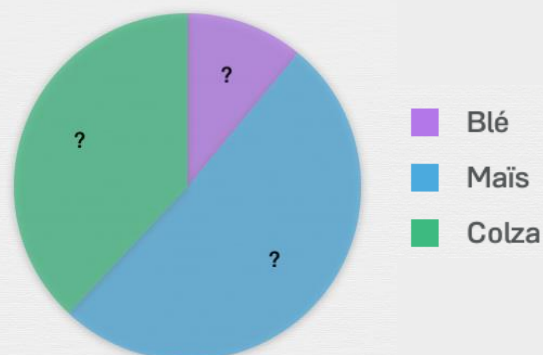
Dans la classe de Tom, 37% des élèves préfèrent les maths, 41% préfèrent le français et 22% préfèrent les sciences.



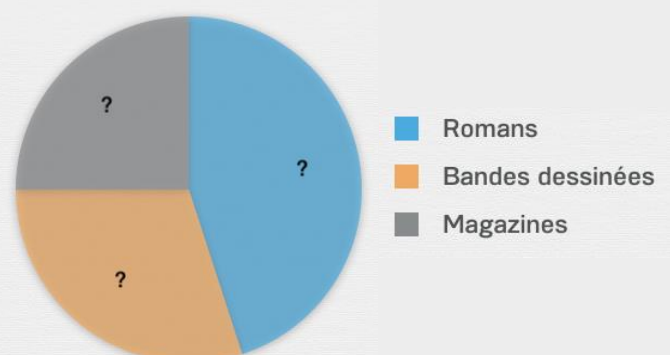
Christophe est éleveur de chien guide. 33% de ses chiens sont de labradors, 29% sont des golden retriever et 38% sont des bergers australiens.



Nathalie fait son marché. Dans son panier, il y a 57% de légumes, 18% de fruits et 25% de fromages.



M. Legrand est agriculteur. 11% de ses cultures sont du blé, 51% sont du maïs et 38% sont du coton.



La bibliothèque de Pierre est bien remplie ! 45% de ses livres sont des romans, 30% sont des bandes dessinées et 25% sont des magazines.