





Multiplier un nombre par une fraction

Entoure le bon nombre d'objets.

$$\frac{2}{3} \text{ de } 9$$



$$\frac{1}{2} \text{ de } 10$$




$$\frac{2}{3} \text{ de } 3$$



$$\frac{2}{3} \text{ de } 12$$



$$\frac{1}{2} \text{ de } 6$$



$$\frac{1}{2} \text{ de } 12$$

