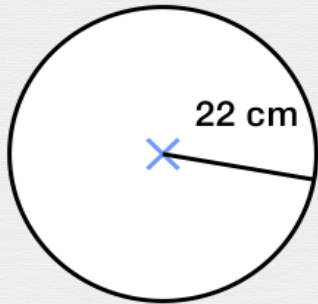




Calcul d'aires

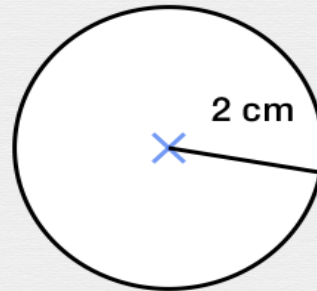
Résous ces problèmes.



Typhaine a un joli miroir rond dans sa chambre. Il mesure 22 centimètres de rayon. Quelle est l'aire de son miroir ?

Réponse :

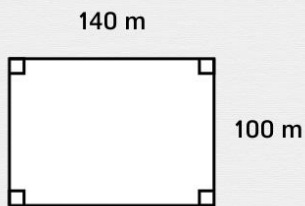
cm²



Julie a un beau pendentif rond. Il mesure 2 centimètres de rayon. Quelle est l'aire du pendentif ?

Réponse :

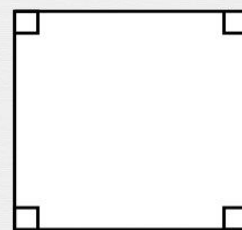
cm²



Monsieur Martin possède un champ de forme rectangulaire. Sa longueur est de 140 mètres et sa largeur de 100 mètres. Quelle est l'aire de ce champ ?

Réponse :

m²



Christophe a acheté un grand cadre carré pour mettre dans son salon. Il mesure 1,8 mètre de chaque côté. Quelle est l'aire de son tableau ?

Réponse :

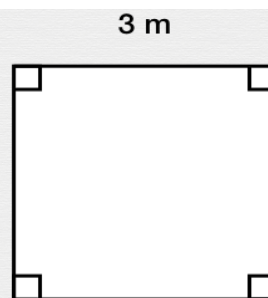
m²



Marie a un potager de 15 mètres par 5 mètres. Quelle est l'aire de son potager ?

Réponse :

m²



Jeanne a un tapis carré. Il mesure 3 mètres de chaque côté. Quelle est l'aire du tapis de Jeanne ?

Réponse :

m²