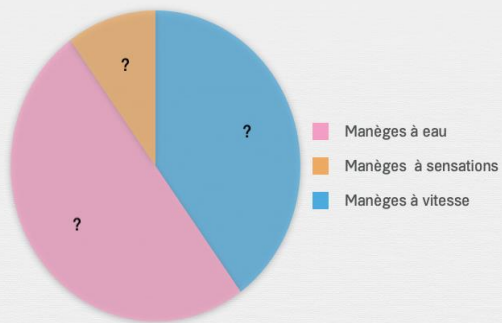




Construire un graphique

Place les pourcentages sur les diagrammes en suivant les données de l'énoncé.

Au parc d'attractions, 40% des gens préfèrent les manèges à vitesse, 50% préfèrent les manèges à eau et 10% préfèrent les manèges à sensations.

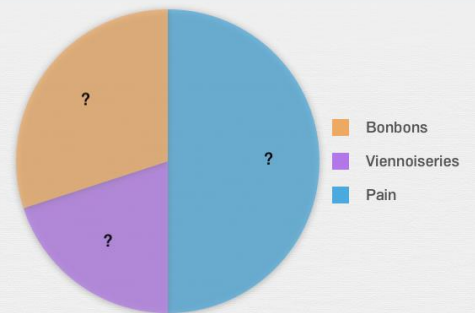


40%

50%

10%

À la fin de la journée à la boulangerie, il reste 50% de pain, 20% de viennoiseries et 30% de bonbons. Construis le diagramme circulaire.

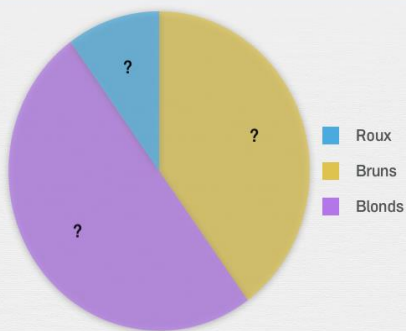


50%

20%

30%

Dans la classe de CP, 40% des élèves sont bruns, 50% sont blonds et 10% sont roux. Construis le diagramme circulaire.

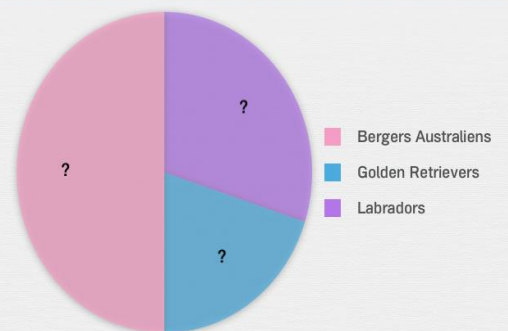


50%

10%

40%

Christophe est éleveur de chiens guide. 30% de ses chiens sont des Labradors, 20% sont des Golden Retrievers et 50% sont des Bergers australiens.



50%

20%

30%