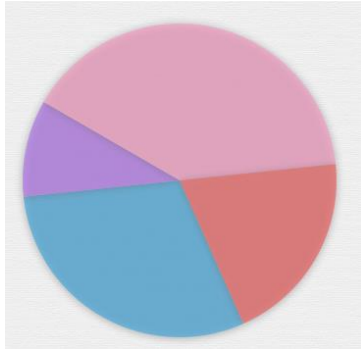




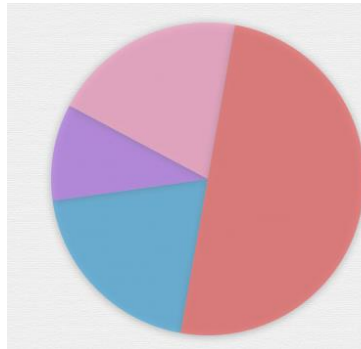
Diagrammes circulaires

Lis le tableau et complète le diagramme avec les bons pourcentages.



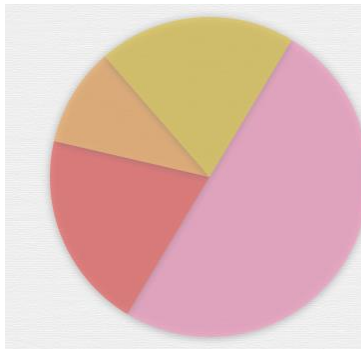
Musiques préférées des enfants

| | | | |
|---------|--------|-----------|-----------|
| le rock | le rap | le reggae | la techno |
| 30 | 10 | 40 | 20 |



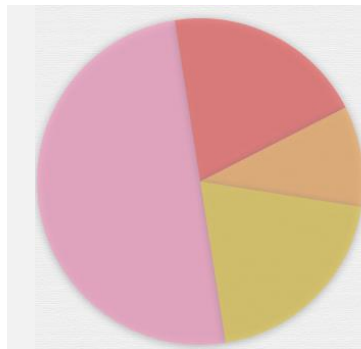
Moyens de transport utilisés par les adultes

| | | | |
|---------|------------|----------|--------|
| le vélo | la voiture | le métro | le bus |
| 20 | 10 | 20 | 50 |



Matières préférées des enfants

| | | | |
|-----------|-------------|--------------|------------|
| les maths | le français | les sciences | l'histoire |
| 50 | 20 | 10 | 20 |



Sports préférés des enfants

| | | | |
|-------------|-----------|-------------|-----------|
| la natation | le tennis | le football | le volley |
| 50 | 20 | 10 | 20 |