



## Les nombres de 20 à 29

Combien y a-t-il de coccinelles ? Entoure la bonne réponse




25 26 27 28 29




20 21 22 23 24

Combien y a-t-il de crayons ? Entoure la bonne réponse




25 26 27 28 29



25 26 27 28 29

Combien y a-t-il de pommes ? Entoure la bonne réponse



20 21 22 23 24



25 26 27 28 29