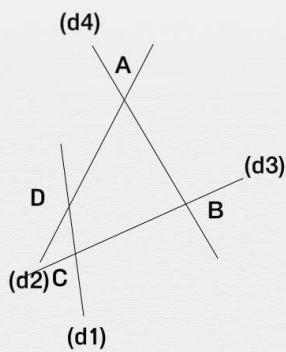




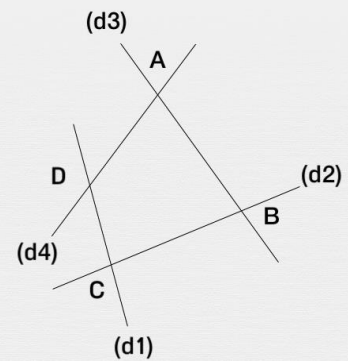
# Droites sécantes et point d'intersection

Quel est le point d'intersection ?

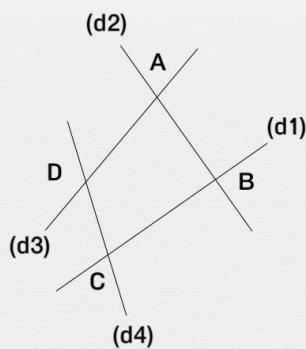
Quel est le point d'intersection des droites (d4) et (d3) ?



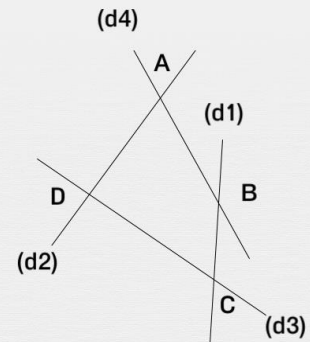
Quel est le point d'intersection des droites (d2) et (d1) ?



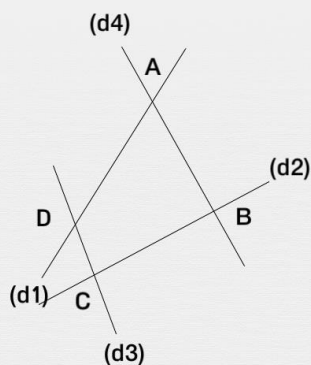
Quel est le point d'intersection des droites (d1) et (d4) ?



Quel est le point d'intersection des droites (d4) et (d1) ?



Quel est le point d'intersection des droites (d1) et (d4) ?



Quel est le point d'intersection des droites (d3) et (d4) ?

