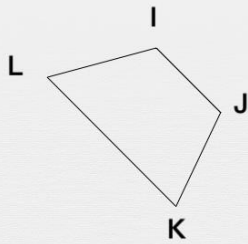




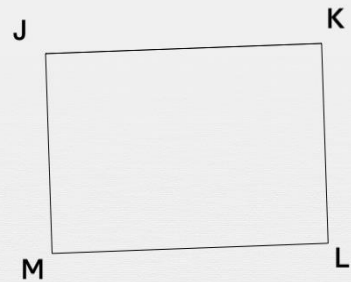
Droites sécantes et point d'intersection

Les droites sont-elles sécantes ?


(IJ) et (KL) sont-elles sécantes ?



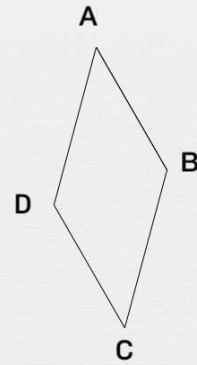
(MJ) et (ML) sont-elles sécantes ?



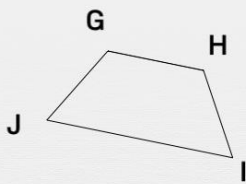
(FE) et (FC) sont-elles sécantes ?



(CD) et (CB) sont-elles sécantes ?



(GH) et (HI) sont-elles sécantes ?



(LK) et (IL) sont-elles sécantes ?

