



Reconnaître des figures

Quel est le nom de chaque figure ? Entoure la bonne réponse.



trapèze

triangle isocèle

triangle rectangle

triangle équilatéral

ellipse

parallélogramme



trapèze

triangle isocèle

triangle rectangle

triangle équilatéral

ellipse

parallélogramme



trapèze

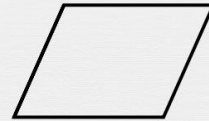
triangle isocèle

triangle rectangle

triangle équilatéral

ellipse

parallélogramme



trapèze

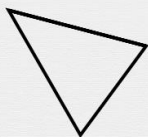
triangle isocèle

triangle rectangle

triangle équilatéral

ellipse

parallélogramme



trapèze

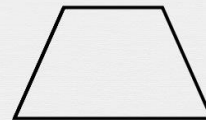
triangle isocèle

triangle rectangle

triangle équilatéral

ellipse

parallélogramme



trapèze

triangle isocèle

triangle rectangle

triangle équilatéral

ellipse

parallélogramme