




# Aires et périmètres

Combien la figure contient-elle d'unités de longueur ?

—


une unité de longueur



Périmètre =                  unités de longueur

—


une unité de longueur



Périmètre =                  unités de longueur

—


une unité de longueur



Périmètre =                  unités de longueur

—


une unité de longueur



Périmètre =                  unités de longueur

—


une unité de longueur



Périmètre =                  unités de longueur

—

une unité de longueur



Périmètre =                  unités de longueur