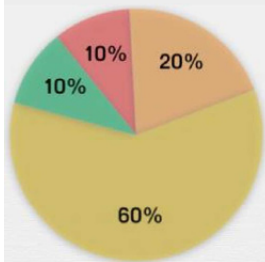




Diagrammes circulaires

Coche le tableau qui correspond au diagramme circulaire.

Moyen de transport utilisé par les adultes

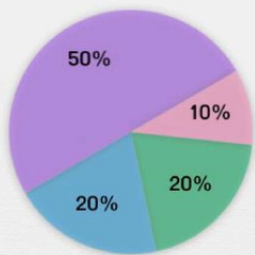


- le vélo
- la voiture
- le métro
- le bus

le vélo	la voiture	le métro	le bus
10	60	10	20

le vélo	la voiture	le métro	le bus
10	20	60	10

Sport préféré des enfants

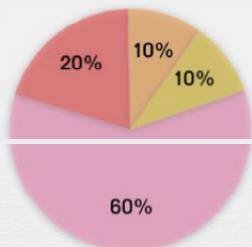


- la natation
- le tennis
- le football
- le volley

la natation	le tennis	le football	le volley
20	50	10	20

la natation	le tennis	le football	le volley
20	20	50	10

Musique préférée des enfants



- le rock
- le rap
- le reggae
- la techno

le rock	le rap	le reggae	la techno
60	10	10	20

le rock	le rap	le reggae	la techno
60	20	10	10