

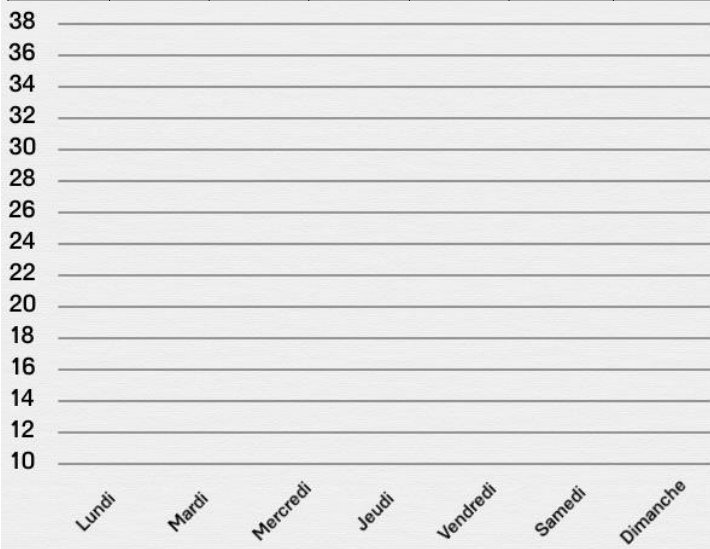


Diagrammes linéaires

Place les points correspondant aux informations du tableau dans le graphique puis relie les points pour former la courbe.

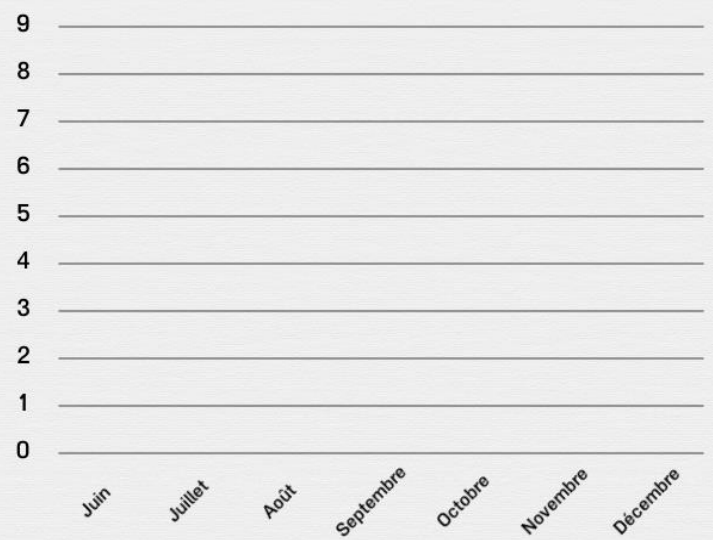
Nombre de photos prises en fonction des jours de la semaine

Lundi	Mardi	Mercredi	Jeudi	Vendredi	Samedi	Dimanche
16	12	36	28	26	18	20



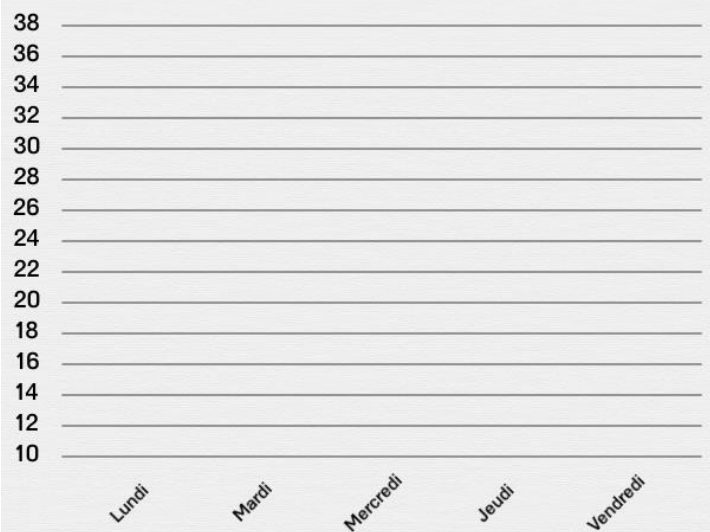
Nombre de fois où Marion est allée à la piscine en fonction des mois de l'année

Juin	Juillet	Août	Septembre	Octobre	Novembre	Décembre
6	7	5	8	3	2	4



Nombre d'arbres coupés en fonction des jours de la semaine

Lundi	Mardi	Mercredi	Jeudi	Vendredi
16	24	36	14	12



Nombre de sandwiches vendus en fonction des jours de la semaine

Lundi	Mardi	Mercredi	Jeudi	Vendredi	Samedi	Dimanche
35	33	36	38	34	32	34

