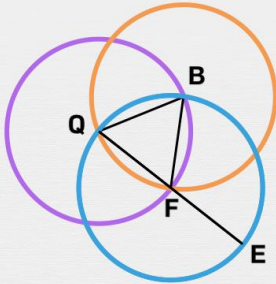




Le cercle

Vrai ou faux ? Entoure la bonne réponse.

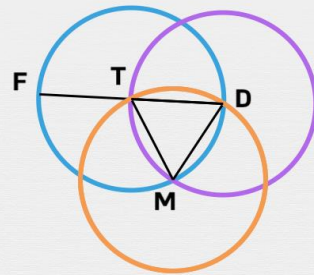
Le centre du cercle de diamètre [EQ] est le point F.



vrai

faux

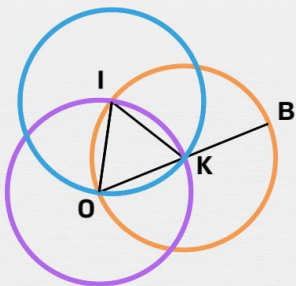
La corde [DT] fait partie du cercle de centre M.



vrai

faux

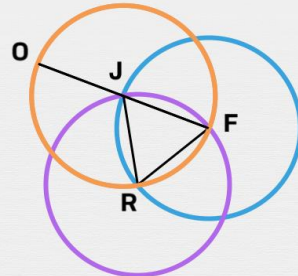
Le centre du cercle de rayon [IO] est le point I.



vrai

faux

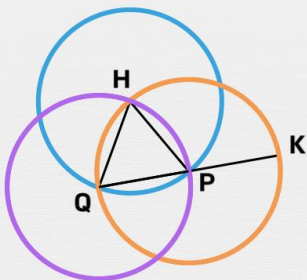
Le centre du cercle de diamètre [OF] est le point R.



vrai

faux

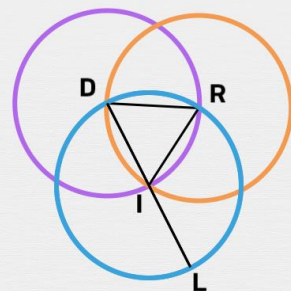
Le rayon [QP] fait partie du cercle de centre Q.



vrai

faux

Le centre du cercle de diamètre [LD] est le point D.



vrai

faux